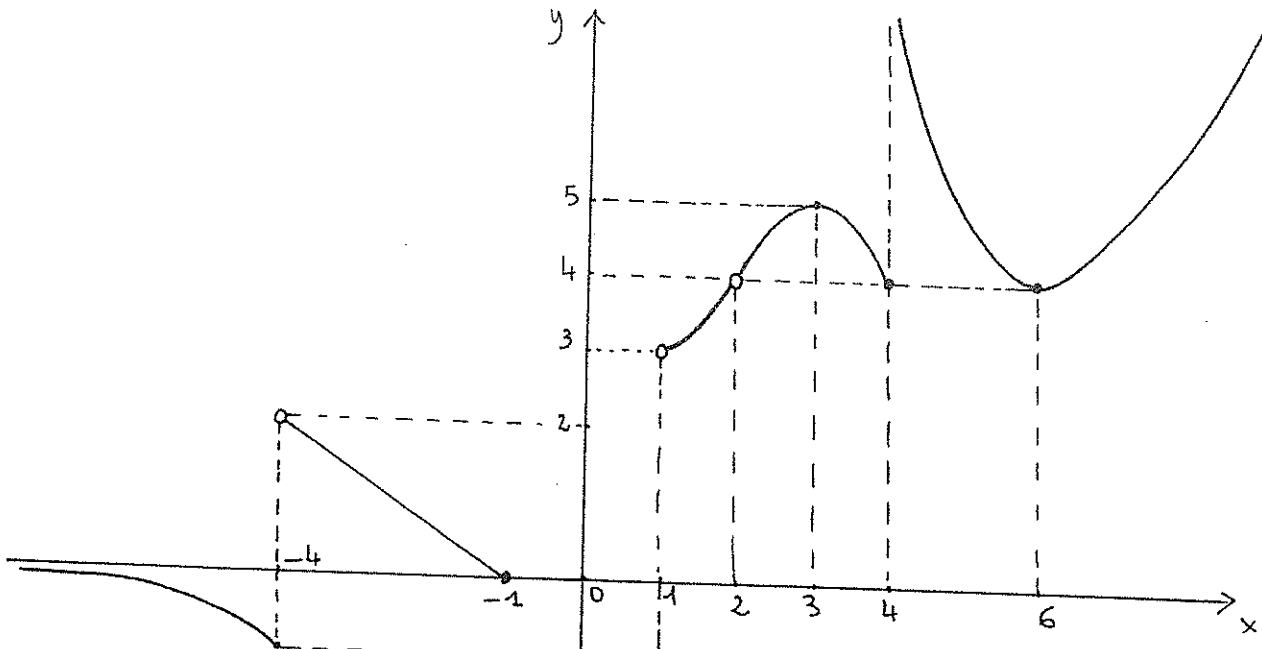


3) Considerate la funzione f che ha il seguente grafico:



dom $f =]-\infty, -1] \cup [1, 2[\cup]2, +\infty[$ Imm $f = [-1, 2[\cup]3, +\infty[$

max $f = \dots$ (punti di max: $x=3$)

min $f = -1$ (punti di min: $x=-4, x=1$)

punti di massimo locale: $x=3$ punti di minimo locale: $x=-4, x=-1, x=1, x=4, x=6$

$\frac{4}{3} \in]0, 2[$

$f(1) = -1$ $f(2) = \dots$ $f^{-1}(\frac{4}{3}) = \{x=-3\}$ $f^{-1}(4) = \{x=4, x=6\}$
 $2 \notin \text{dom } f$ retta $y = -\frac{2}{3}x - \frac{2}{3}$ $\frac{4}{3} = -\frac{2}{3}x - \frac{2}{3}$ $\frac{2}{3}x = -2$ $x = -3$

Il numero delle soluzioni dell'equazione $f(x) = 5$ è: $\dots 3 \dots$

Def. $x_1 < x_2 \Rightarrow f(x_1) > f(x_2)$

Dite se è VERO o FALSO (motivando la risposta) che

a) f è strettamente decrescente su $[-4, -1]$ F $x = -4 < x = -1$ ma $f(-4) = -1 < f(-1) = 0$

b) f è strettamente crescente su $[1, 2[\cup]2, 3]$ V f è crescente su $[1, 2[$ e su $]2, 3]$
 $(x_1 < x_2 \Rightarrow f(x_1) < f(x_2))$ e in più
 $\forall x_1 \in [1, 2[\text{ e } \forall x_2 \in]2, 3] \quad f(x_1) < f(x_2)$

4a) Se $f(x) = \frac{1}{(x-3)^2} \sqrt{\log\left(\frac{3}{2} - \frac{3}{2}x\right) - \log(x^2 - 3) + \log(x^2 - 3x + 3)}$ allora:

$\text{dom } f = \dots\dots\dots [-3, -\sqrt{3}[$

Svolgim. a pag. 4A-5A

4b) Considerate l'insieme $A = [-3, -\sqrt{2}[$: dite (motivando la risposta) se è VERA o FALSA la seguente proposizione

$\forall x \quad [x \in A \Rightarrow x^2 \geq 4]$

Negate la proposizione assegnata e stabilite se la negazione ottenuta è una proposizione

VERA o FALSA (motivando la risposta). *Svolgimento a pag. 5A*

5) Disegnate con precisione sul foglio a quadretti il grafico della seguente funzione, specificando tutti i passaggi necessari per la costruzione di ogni tratto:

Svolgimento a pag 5A-6A

$$f(x) = \begin{cases} \left| -\frac{1}{7}x^2 - x \right| & \text{se } x \leq -1 \\ -\log(1+x) & \text{se } -1 < x \leq e-1 \\ -1 + \sqrt{6-x} & \text{se } 2 \leq x \leq 6. \end{cases}$$

Specificate il dominio e l'immagine di f e risolvete l'equazione $f(x) = -\frac{1}{2}$.

6) L'insieme di equazione $x^2 + 4y^2 + 2x - 16y - 19 = 0$ rappresenta:

un'ellisse avente ... C.(-1,2) e semiasse a=6, b=3.

Disegnate con precisione l'insieme trovato. *Disegno a pag. 6A e calcoli*

Soluzione del COMPITO del 27 ottobre 2017

FILA A

ES.1) A: $|x^3 - 8x - \frac{3}{2}| \geq 3x^2 + \frac{3}{2} - x^3 \Leftrightarrow$

$|a| \geq b \Leftrightarrow a \leq -b \text{ o } a \geq b$

$\Leftrightarrow x^3 - 8x - \frac{3}{2} \leq -3x^2 - \frac{3}{2} + x^3 \text{ o } x^3 - 8x - \frac{3}{2} \geq 3x^2 + \frac{3}{2} - x^3$

$\Leftrightarrow 3x^2 - 8x \leq 0 \text{ o } 2x^3 - 3x^2 - 8x - 3 \geq 0$

$x(3x-8) \leq 0 \quad x = -1 \text{ \u00e9 radice del polinomio } P(-1) = -2 - 3 + 8 - 3 = 0$

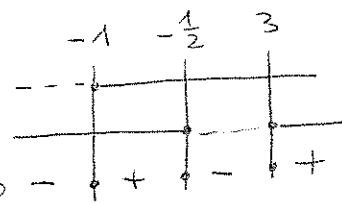
$\Leftrightarrow x \in [0, \frac{8}{3}] \text{ o } (x+1)(2x^2 - 5x - 3) \geq 0$

$F_1 = x+1 \geq 0 \quad x \geq -1$

$F_2 = 2x^2 - 5x - 3 \geq 0 \quad x \leq -\frac{1}{2} \text{ o } x \geq 3$

$x_1 = -\frac{1}{2}$

$x_2 = 3$



$\Leftrightarrow x \in [0, \frac{8}{3}] \text{ o } x \in [-1, -\frac{1}{2}] \cup [3, +\infty[$

$A = [-1, -\frac{1}{2}] \cup [0, \frac{8}{3}] \cup [3, +\infty[$

$A \setminus [-\frac{9}{17}, 4[= [-1, -\frac{9}{17}[\cup [4, +\infty[$

$-\frac{9}{17} < -\frac{1}{2} \Leftrightarrow \frac{9}{17} > \frac{1}{2} \Leftrightarrow 18 > 17 \text{ VERO}$

ES.4) a) $\text{dom } f = \{x \in \mathbb{R} : (x-3)^2 \neq 0, \frac{3}{2} - \frac{3}{2}x > 0, x^2 - 3 > 0,$

$\log(\frac{3}{2} - \frac{3}{2}x) - \log(x^2 - 3) \geq 0, x^2 - 3x + 3 > 0\}$

$\left\{ \begin{array}{l} (x-3)^2 \neq 0 \\ \frac{3}{2} - \frac{3}{2}x > 0 \\ x^2 - 3 > 0 \end{array} \right.$

(I) $x \neq 3$
(II) $x < 1$
(III) $x < -\sqrt{3} \text{ o } x > \sqrt{3}$

$\log(\frac{3}{2} - \frac{3}{2}x) \geq \log(x^2 - 3)$ (IV)

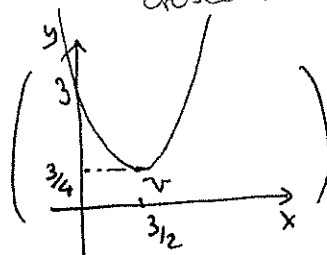
$\frac{3}{2} - \frac{3}{2}x \geq x^2 - 3$

$x^2 - 3x + 3 > 0$ (V)

$\forall x \in \mathbb{R}$

poich\u00e9 il logaritmo in base e \u00e8 strettam. crescente

$\Delta = 9 - 12 < 0$
e in questo caso il trinomio ha sempre il segno del 1\u00b0 coeff



$$\begin{cases} x < -\sqrt{3} \\ x^2 + \frac{3}{2}x - \frac{9}{2} \leq 0 \\ \forall x \in \mathbb{R} \end{cases} \rightarrow \begin{array}{c} \text{(I)} \\ \text{(II)} \\ \text{(III)} \end{array}$$

nessuna intersezione

-5A-
27/10/13

$$\begin{cases} x < -\sqrt{3} \\ x_1 = -3 \\ x_2 = \frac{3}{2} \end{cases} \text{ essendo } -3 < -\sqrt{3} < \frac{3}{2} \text{ poich\u00e9 } -\sqrt{3} \in]-2, -1[$$

otteniamo $\text{dom } f = [-3, -\sqrt{3}[$

$$2x^2 + 3x - 9 = 0$$

$$x_{1,2} = \frac{-3 \pm \sqrt{9 + 72}}{4} = \frac{-3 \pm 9}{4} \rightarrow \begin{matrix} -3 \\ \frac{3}{2} \end{matrix}$$

4b) $A = [-3, -\sqrt{2}[$

La proposizione $P = " \forall x [x \in A \Rightarrow x^2 \geq 4]"$ \u00e8 FALSA: infatti non tutti i numeri di A hanno quadrato ≥ 4 - Ad es. $x = -\frac{3}{2} \in A$

$(-3 \leq -\frac{3}{2} < -\sqrt{2}$ poich\u00e9 $\frac{3}{2} > \sqrt{2} \Leftrightarrow 3 > 2\sqrt{2} \Leftrightarrow 9 > 8$) ma

$x^2 = \frac{9}{4} < 4$ - Ovvia $\forall x \in]-2, -\sqrt{2}[$ si ha $x \in A \wedge x^2 < 4$.

NEGAZIONE $\text{Non } P = " \exists x : x \in A \wedge x^2 < 4 "$ che \u00e8 VERA -

Come appena osservato la proposizione $\text{Non } P$ \u00e8 verificata da $x = -\frac{3}{2}$ ma anche da ogni $x \in]-2, -\sqrt{2}[$.

5) $\text{dom } f =]-\infty, -1] \cup [2, 6]$

1\u00b0 tratto $y = |-\frac{1}{7}x^2 - x|$ \u00e8 il valore assoluto di $y = -\frac{1}{7}x^2 - x$ che rappresenta una parabola di $V(-\frac{7}{2}, \frac{7}{4})$ ($x_v = -\frac{b}{2a} = \frac{1}{-2/7} = -\frac{7}{2}$)

$y_v = -\frac{1}{7} \frac{49}{4} + \frac{7}{2} = -\frac{7}{4} + \frac{7}{2} = \frac{7}{4}$), rivolta verso il basso e passante per

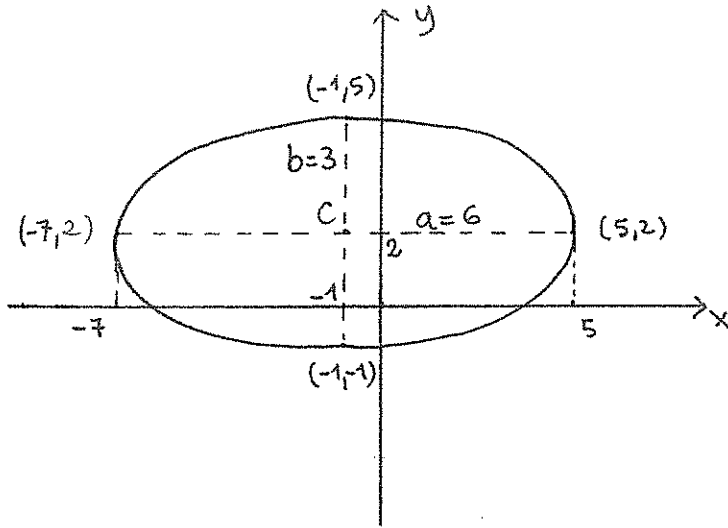
$(0,0)$ e per $(-7,0)$ per simmetria - Se $x = -1 \rightarrow y = -\frac{1}{7} + 1 = \frac{6}{7}$ -
se $x = -9 \rightarrow y = |-\frac{18}{7}| = \frac{18}{7}$

Poi $y = |-\frac{1}{7}x^2 - x| = \begin{cases} -\frac{1}{7}x^2 - x & -7 \leq x \leq -1 \\ \frac{1}{7}x^2 + x & x < -7 \end{cases}$

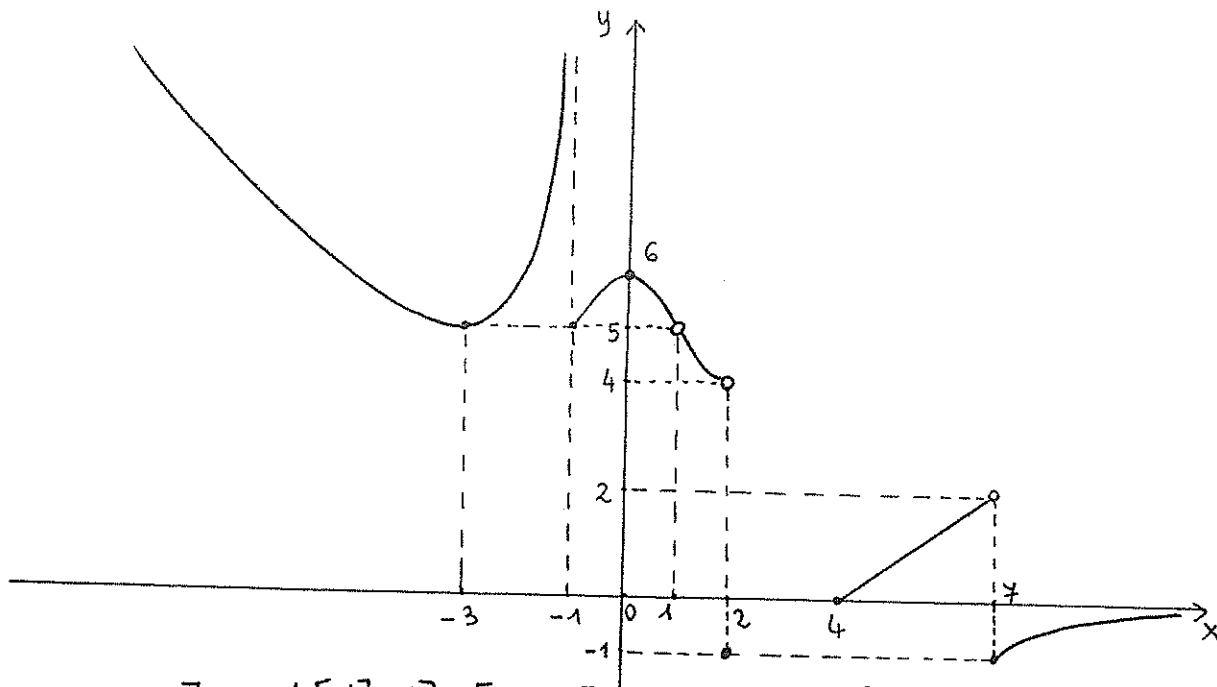
simmetria rispetto all'asse x

cio\u00e8 la parte di grafico con $y < 0$ va ribaltata rispetto all'asse x

-YA-
27/10/17



3) Considerate la funzione f che ha il seguente grafico:



dom $f =]-\infty, -1[\cup]1, 2] \cup [4, +\infty[$ Imm $f = [-1, 2[\cup]4, +\infty[$

max $f = \dots$ (punti di max: $x=0$...)

min $f = -1$ (punti di min: $x=2, x=7$...)

punti di massimo locale: $x=0$ punti di minimo locale: $x=-3, x=-1, x=2, x=4, x=7$

$f(1) = \dots$ $f(2) = -1$ $\frac{4}{3} \in]0, 2[$ $f^{-1}(\frac{4}{3}) = \dots$ $f^{-1}(5) = \{-3, -1\}$
 retta $y = \frac{2}{3}x - \frac{8}{3}$ $\frac{4}{3} = \frac{2}{3}x - \frac{8}{3}$

Il numero delle soluzioni dell'equazione $f(x) = \frac{11}{2}$ è: \dots $\frac{2}{3}x = 4 \quad x=6$

Dite se è VERO o FALSO (motivando la risposta) che

a) f è strettamente crescente su $[4, 7]$ F $x=4 < x=7$ ma $f(4)=0 > f(7)=-1$
 Def. $x_1 < x_2 \Rightarrow f(x_1) < f(x_2)$

b) f è strettamente decrescente su $[0, 1[\cup]1, 2]$. $\forall f$ è decrescente su $[0, 1[$ e su $]1, 2]$
 ($x_1 < x_2 \Rightarrow f(x_1) > f(x_2)$) e in più $\forall x_1 \in [0, 1[$ e $\forall x_2 \in]1, 2]$ $f(x_2) > f(x_1)$

4a) Se $f(x) = \frac{1}{(x-2)^2} \sqrt{\log\left(\frac{2}{3} - \frac{2}{3}x\right) - \log(x^2 - 2) + \log(x^2 - 2x + 2)}$ allora:

$\text{dom } f = [-2, -\sqrt{2}[$

Svolgimento a pag. 4B-5B

4b) Considerate l'insieme $A = [-3, -\sqrt{2}[$: dite (motivando la risposta) se è VERA o FALSA la seguente proposizione

$\forall x \quad [x \in A \Rightarrow x^2 \geq 4]$

Negate la proposizione assegnata e stabilite se la negazione ottenuta è una proposizione

VERA o FALSA (motivando la risposta).

5) Disegnate con precisione sul foglio a quadretti il grafico della seguente funzione, specificando tutti i passaggi necessari per la costruzione di ogni tratto:

Svolgimento a pag 5B-6B

$$f(x) = \begin{cases} -1 + \sqrt{-1-x} & \text{se } -5 \leq x \leq -1 \\ -\log(1+x) & \text{se } -1 < x \leq e-1 \\ \left| -\frac{1}{9}x^2 + x \right| & \text{se } x \geq 2. \end{cases}$$

Specificate il dominio e l'immagine di f e risolvete l'equazione $f(x) = -\frac{1}{2}$.

6) L'insieme di equazione $4x^2 + y^2 - 8x + 4y - 28 = 0$ rappresenta:

un'ellisse avente ... *centro* $C(1, -2)$ e semiasse $a=3, b=6$

Disegnate con precisione l'insieme trovato. *Disegno a pag. 6B e calcoli*

FILA B

-4 B-
27/10/17

es. 1) A: $|x^3 - 11x - 2| \geq 5x^2 + 2 - x^3 \Leftrightarrow$

$|a| \geq b \Leftrightarrow a \leq -b \text{ o } a \geq b$

$\cancel{x^3 - 11x - 2} \leq -5x^2 - 2 + \cancel{x^3} \text{ o } x^3 - 11x - 2 \geq 5x^2 + 2 - x^3$

$\Leftrightarrow 5x^2 - 11x \leq 0$
 $x(5x - 11) \leq 0$

$\text{ o } 2x^3 - 5x^2 - 11x - 4 \geq 0$

$x = -1$ è radice del polinomio: $P(-1) = -2 - 5 + 11 - 4 = 0$

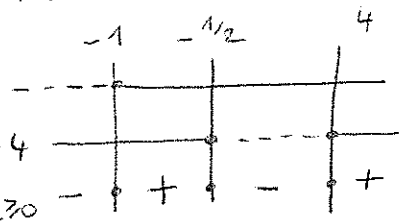
$\Leftrightarrow x \in [0, \frac{11}{5}] \text{ o } (x+1)(2x^2 - 7x - 4) \geq 0$

$F_1 = x+1 \geq 0 \Rightarrow x \geq -1$

$F_2 = 2x^2 - 7x - 4 \geq 0 \Rightarrow x \leq -\frac{1}{2} \text{ o } x \geq 4$

$x_1 = -\frac{1}{2}$

$x_2 = 4$



$\Leftrightarrow x \in [0, \frac{11}{5}] \text{ o } x \in [-1, -\frac{1}{2}] \cup [4, +\infty[$

$A = [-1, -\frac{1}{2}] \cup [0, \frac{11}{5}] \cup [4, +\infty[$

$A \setminus [\frac{15}{7}, 5[= [-1, -\frac{1}{2}] \cup [0, \frac{15}{7}[\cup [5, +\infty[\quad \frac{15}{7} < \frac{11}{5} \Leftrightarrow 75 < 77 \text{ vero}$

ES. 4) a) $\text{dom} f = \left\{ x \in \mathbb{R} : (x-2)^2 \neq 0, \frac{2}{3} - \frac{2}{3}x > 0, x^2 - 2 > 0, \log(\frac{2}{3} - \frac{2}{3}x) - \log(x^2 - 2) \geq 0, x^2 - 2x + 2 > 0 \right\}$

$(x-2)^2 \neq 0$
 $\frac{2}{3} - \frac{2}{3}x > 0$
 $x^2 - 2 > 0$

$\log(\frac{2}{3} - \frac{2}{3}x) \geq \log(x^2 - 2)$

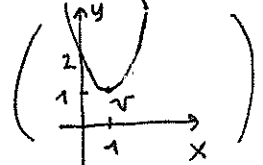
$x^2 - 2x + 2 > 0$

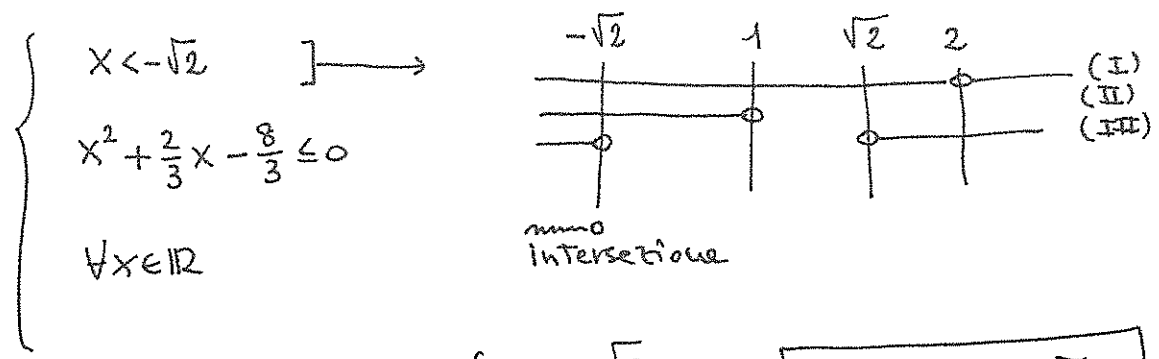
- (I) $x \neq 2$
- (II) $x < 1$
- (III) $x < -\sqrt{2} \text{ o } x > \sqrt{2}$
- (IV) $\frac{2}{3} - \frac{2}{3}x \geq x^2 - 2$
- (V) $\forall x \in \mathbb{R}$

$\Delta = 4 - 8 = -4 < 0$

perché il logaritmo in base $e > 1$ è strettamente crescente

e in questo caso il trinomio ha sempre il segno del 1° coefficiente





$$\begin{cases} x < -\sqrt{2} \\ x^2 + \frac{2}{3}x - \frac{8}{3} \leq 0 \\ \forall x \in \mathbb{R} \end{cases}$$

$$\begin{cases} x < -\sqrt{2} \\ 3x^2 + 2x - 8 \leq 0 \end{cases} \Rightarrow \begin{cases} x < -\sqrt{2} \\ -2 \leq x \leq \frac{4}{3} \end{cases}$$

$$x_{1,2} = \frac{-1 \pm \sqrt{1+24}}{3} = \frac{-1 \pm 5}{3} \rightarrow \begin{cases} x_1 = -2 \\ x_2 = \frac{4}{3} \end{cases}$$

$$\text{dom } f = [-2, -\sqrt{2}[$$

essendo $-2 < -\sqrt{2} < \frac{4}{3}$
 $(-\sqrt{2} \in]-2, -1[)$

4b) si veda FILA A, pag. 5A

5) $\text{dom } f = [-5, e-1] \cup [2, +\infty[$

1° tratto $y = -1 + \sqrt{-1-x}$ (c.e. $x \leq -1$) $y = -1 + \sqrt{-(x+1)}$ grafico della radice $y = \sqrt{x}$ simmetrizzato rispetto all'asse y ($y = \sqrt{-x}$) e poi spostato a sinistra di 1 e in basso di 1. In alternativa $y = \sqrt{x}$ a destra di 1 ($y = \sqrt{x-1}$) e poi simmetrizzato risp. all'asse y ($y = \sqrt{-x-1}$) e in basso di 1.

$y(-1) = -1$ $y(-2) = 0$ $y(-5) = 1$ $y(-3) = -1 + \sqrt{2}$

2° tratto $y = -\log(1+x)$ si veda fila A pag. 6A

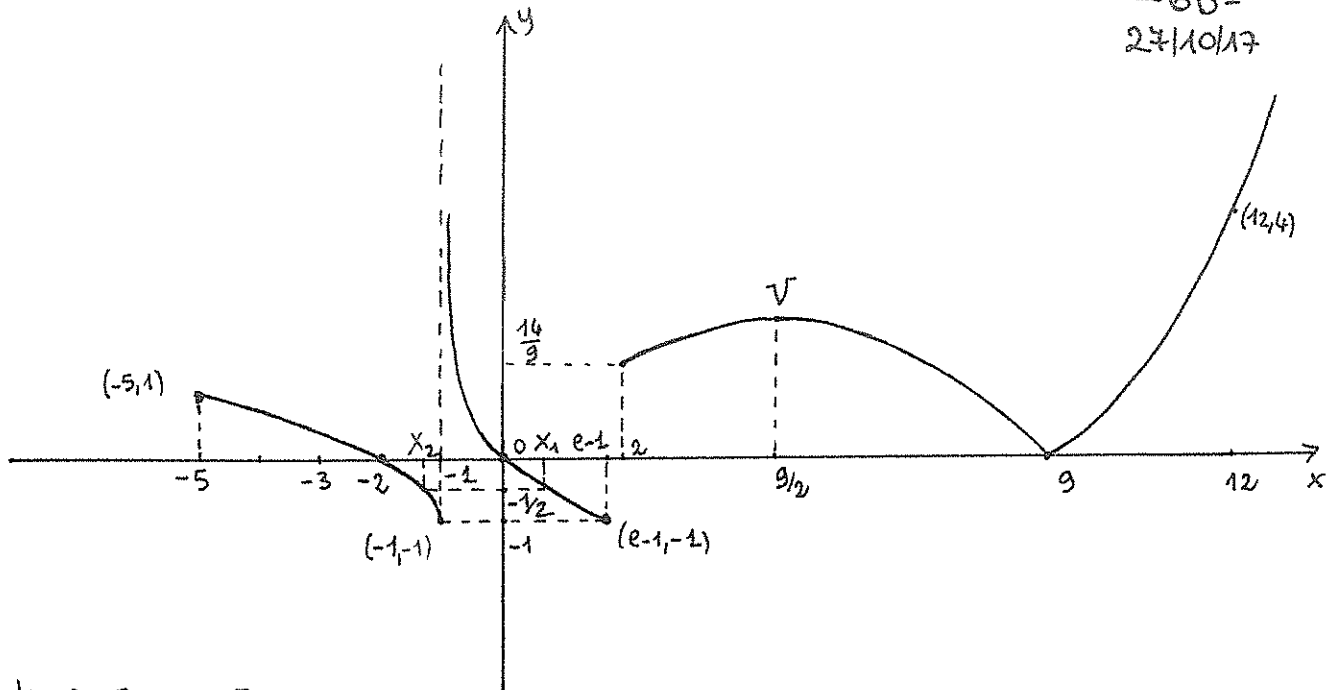
3° tratto $y = |-\frac{1}{9}x^2 + x|$ è il valore assoluto di $y = -\frac{1}{9}x^2 + x$ che è una parabola di $V(\frac{9}{2}, \frac{9}{4})$ ($x_v = -\frac{b}{2a} = -\frac{1}{-2/9} = \frac{9}{2}$, $y_v = -\frac{1}{9} \frac{81}{4} + \frac{9}{2} = -\frac{9}{4} + \frac{9}{2} = \frac{9}{4}$) rivolta verso il basso e passante per (0,0) e per (9,0) per simmetria.

Se $x=2$ $y = \frac{14}{9}$ se $x=12$ $y = |-4| = 4$ - Poi

$$y = |-\frac{1}{9}x^2 + x| = \begin{cases} -\frac{1}{9}x^2 + x & 2 \leq x \leq 9 \\ \frac{1}{9}x^2 - x & x > 9 \end{cases}$$

simmetria risp. a $x=9$

cioè la parte di grafico con $y < 0$ va ribaltata risp. a x .



$\text{Dom } f = [-1, +\infty[$

$f(x) = -\frac{1}{2}$ dal grafico si vede che ci sono 2 sol. (infatti $|\dots| = -\frac{1}{2}$ è impossibile)

1^a sol. $-\log(1+x) = -\frac{1}{2} \Leftrightarrow \log(1+x) = \frac{1}{2} \Leftrightarrow \log(1+x) = \log \sqrt{e}$

\Leftrightarrow log biunivoca $1+x = \sqrt{e} \Leftrightarrow x_1 = \sqrt{e} - 1$

2^a sol. $-1 + \sqrt{-1-x} = -\frac{1}{2} \Leftrightarrow \sqrt{-1-x} = \frac{1}{2} \Leftrightarrow \begin{cases} -1-x \geq 0 \\ \frac{1}{2} \geq 0 \\ -1-x = \frac{1}{4} \end{cases} \Leftrightarrow \begin{cases} x \leq -1 \\ x = -1 - \frac{1}{4} \end{cases}$

$\Leftrightarrow x_2 = -\frac{5}{4}$

ES.6) $4x^2 + y^2 - 8x + 4y - 28 = 0 \quad 4x^2 - 8x + y^2 + 4y = 28$

$4(x-1)^2 + (y+2)^2 = 28 + 4 + 4 = 36$

$\frac{(x-1)^2}{9} + \frac{(y+2)^2}{36} = 1$ ellisse di $C(1, -2)$ e semiasse $a=3$ $b=6$

